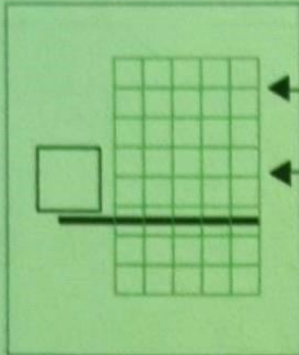


Si un camión lleva 32 cajas de peras.
¿Cuántas cajas llevarán cinco camiones?



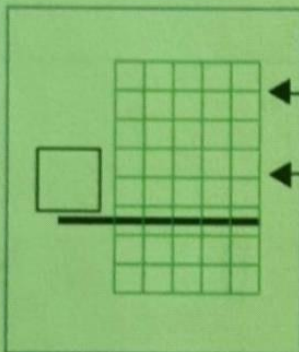
¿Cuántas cajas lleva un camión?

¿Cuántos camiones hay?



S.: Cinco camiones llevan cajas.

Raúl tiene 13 cromos y Verónica el triple.
¿Cuántos cromos tiene Verónica?



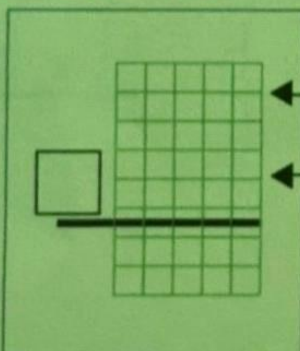
¿Cuántos tiene Raúl?

¿Cuánto es el triple?



S.: Verónica tiene cromos.

Una bici recorre 10 kilómetros y un coche cinco veces más.
¿Cuántos kilómetros recorre el coche?



¿Cuánto recorre la bici?

¿Cuántas veces más recorre el coche?



S.: El coche recorre