



● 2. ¿Cuántas canicas hay en total? Completa.



Hay grupos de canicas.



$2 + 2 + 2 + 2 + 2 + 2 + 2 + 2 = 8 \times 2 =$



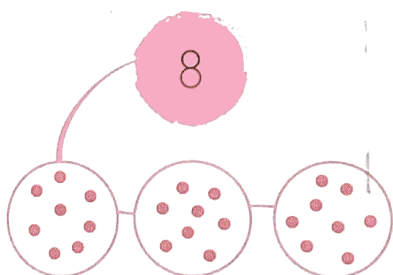
Hay canicas en total.

● 3. Fíjate en cada número y colorea el doble de casillas, como en el ejemplo. Después, completa.

5	
7	
2	
10	

$2 \times 5 =$ $2 \times 7 =$ $2 \times 2 =$ $2 \times 10 =$

● 4. Fíjate en cada número y dibuja el triple de puntos, como en el ejemplo. Después, completa.





$3 \times 8 =$



$3 \times 3 =$

$3 \times 5 =$

1. ¿Qué objeto cuesta más? Rodéalo.



2. ¿Cuánto dinero me devuelven? Dibújalo con las monedas y billetes que necesites.



9 €

Pago con:



Me devuelven:



37 €

Pago con:



Me devuelven: