


- 3. Mide estos lapiceros con una regla.




cm




cm



cm



cm



cm

- 4. Sigue las pistas y colorea los lapiceros de la actividad anterior.

- El lapicero que mide 15 cm es de color rojo.
- El lapicero verde mide 3 cm menos que el rojo.
- El lapicero más corto es de color amarillo.
- El lapicero naranja mide 5 cm más que el amarillo.
- El lapicero azul es más corto que el verde y más largo que el amarillo.

- 5. Marina mide 118 cm. ¿Mide más o menos que un metro?